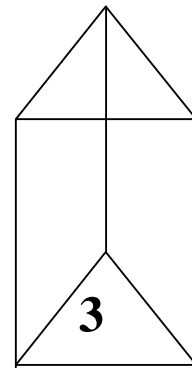
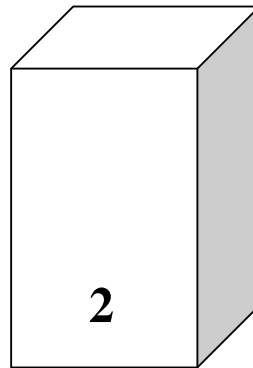
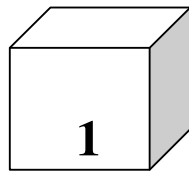


**ZAŁĄCZNIK NR 2****Zadanie 1**

*Przyporządkuj nazwy przedstawionym poniżej graniastosłupom:*

graniastosłup prosty czworokątny, graniastosłup prawidłowy czworokątny, graniastosłup prawidłowy trójkątny, sześcian, graniastosłup prosty trójkątny, prostopadłościan,





**Zadanie 2**

*Przyporządkuj podanym wzorom odpowiednie numery brył.*

$P_c = a h + 3 a H$	
$V = a b c$	
$P_c = 2(ab + bc + ac)$	
$V = a^3$	
$P_c = 6a^2$	
$V = \frac{a^2 \sqrt{3}}{4} \cdot H$	